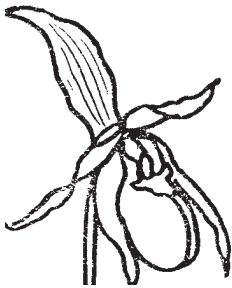


Vihmamets on väga tihe. Kõrged ja madalad taimed kasvavad üksteise lähedal. Osa taimi ja loomi ei puuduta kunagi maapinda, vaid elavad kõrgete puude okstel. Sellised on näiteks osa orhideedest ja loomad, kes oskavad oksalt oksale liuelda.



Orhideed




Kaguan




Lendraakon

Kaguanil on kõik jäsemed ja ka saba ühendatud lennusega. Nii on tema keha pind suur ning ta saab liuelda pikka maad.

1. Tõmba puude A ja B vahele nool, mis näitab liuglemise suunda.



A



B

C

Mis Sa arvad, kas saaks liuelda madalamalt kõrgemale? _____

Kontrolli oma vastust teiste õpilaste vastuste järgi.

Kuidas saab liuelnud loom puult B puule C?

Näita kätega, kuidas toimub liuglemine.

Nüüd näita kätega, kuidas toimub lendamine.

Mille poolest liuglemine ja lendamine erinevad?

2. Vihmametsades elab palju ahve.


Neile on seal palju toitu – vilju ja putukaid.
Ahvid liiguvad oksalt oksale pikkade käte abil.
Nad teevad puult puule osavalt pikki hüppeid.
Vihmametsas elab ka inimahv orangutan.



Orangutan

Orangutan on ohustatud loom.
Inimene võtab tema elupaiku enda jaoks kasutusele.
Orangutane on maailmas väga vähe järgi jäänud.

Ahvid söövad puu otsas vilju,
osa vilju kukub maapinnale.
Neid sööb näiteks **habesiga**.



Habesiga

3. Vihmamets on väga tihe.


Taimede vahelt on raske või isegi võimatu läbi pääseda.
Vihmametsas elavad **elevandid**.
Elevandid murravad puid ja söövad suuri palmilehti.
Nii tekitavad nad vihmametsa valgemaid kohti.
Nad tallavad metsa radu, mida mööda saavad liikuda väiksemad loomad.

7. Taimed valmistavad lehtedes päikeseenergia abil suhkruid. Mõned putukad, linnud ja ahvid on taimtoidulised loomad. Nad söövad lehti ning saavad sealt toitaineid. Loomtoidulised loomad saavad taimede poolt valmistatud toidu taimtoiduliste loomade kaudu.

Kirjuta järgneva toidupüramiidi tasanditele sobivad loomad.

Kõrgemale kirjuta loom, kes sööb alumise tasandi looma.

Loomade nimed võta valikust: *liblika röövik, lenddraakon, madu, krokodill.*



Joonista püramiidi kohale päike.